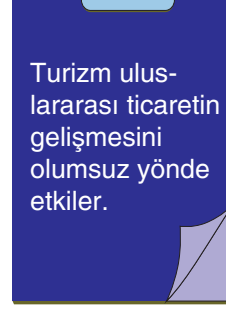
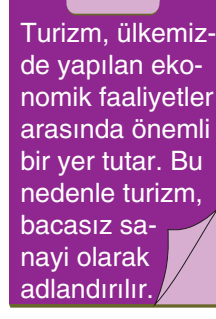
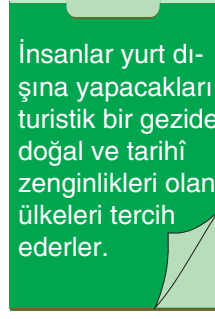
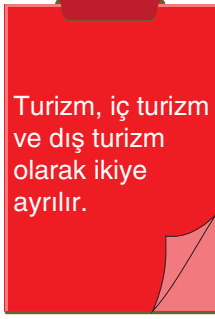


1.




Turizm ile ilgili yukarıda verilen bilgi kartlarından hangisinde yanlışlık yapılmıştır?

- A) Kırmızı kart B) Yeşil kart C) Mor kart D) Mavi kart

2. Ülkemizde turizm faaliyetleri çeşitlilik göstermektedir.

Aşağıdaki görsellerde ülkemizdeki turizm faaliyetleri verilmiş, ancak başlıklandırmada hata yapılmıştır.







Buna göre başlıklardan hangi ikisi yer değiştirirse hata düzeltilebilir?

- A) Kırmızı - Mor B) Yeşil - Mavi
C) Mor - Mavi D) Kırmızı - Mavi

3.

İnsanlar yurt dışına yapacakları turistik geziler için daha çok sosyo-ekonomik düzeyi yüksek, ülkesiyle ilişkileri güçlü olan ülkeleri tercih ederler.

Bu durumda yaz tatili için yurt dışına geziye gidecek olan Türk vatandaşlarının hangi ülkeyi daha az tercih etmesi beklenir?

- A)  İngiltere
B)  İtalya
C)  Fransa
D)  Ermenistan



ÖNEMLİ TURİZM MEKÂN-LARIMIZ:

Deniz Turizmi:

Balıkesir-Erdek, İstanbul-Şile-Silivri
Çeşme, Kuşadası, Bodrum, Didim, Marmaris, Datça
Akdeniz Bölgesi: Antalya, Alanya

Doğa Turizmi:

Balıkesir'de Manyas Kuş Cenneti,
Denizli'de Pamukkale Travertenleri,
Antalya'da Düden ve Manavgat Şelaleleri, İnsuyu ve Karain Mağaraları, Cennet - Cehennem Obrukları
Nevşehir'de Peribacaları,
Aksaray'da İhlara Vadisi,
Bolu'da Abant ve Yedigöller,
Trabzon'da Uzungöl.

Din Turizmi:

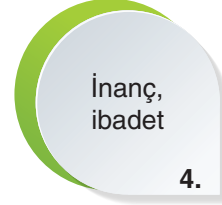
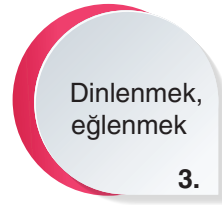
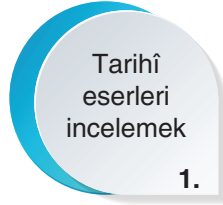
Edirne'de Selimiye Camii,
Bursa'da Ulucami, İstanbul'da Sultan Ahmet Camii,
Selçuk'ta Meryem Ana Mezarı,
Konya'da Mevlana Türbesi,
Erzurum'da Çifte Minareli Medrese, Ağrı Doğu Beyazıt'ta İshak Paşa Camii,
Şanlıurfa'da Balıklı Göl...

Bunları Biliyor musunuz?

Turizm, ülkeler için ekonomik, kültürel, sosyal ve halk sağlığı yönünden yararlar sağlar:

- Farklı insanlar arasında kültürel bağlar kurar. **(Kültürel Katkı)**
- Doğal ve kültürel varlıklar tanınır. **(Kültürel Katkı)**
- Doğal ve kültürel varlıkların koruma altına alınmasını sağlar. **(Kültürel Katkı)**
- Farklı ülkelerin insanlarıyla kurulan dostluk ülkeler arası iletişimi olumlu etkiler. **(Sosyal Fayda)**
- Turistler gezdiği yerlerin kültüründen etkilenir. **(Sosyal Fayda)**
- Turistler gittikleri yerlere döviz (para) bırakır. **(Ekonomik Katkı)**
- Turizmin olduğu yerlerde iş imkânları artar. **(Ekonomik Katkı)**

4.



Yukarıda verilen turizm amaçları, ilgili olduğu turizm bölgeleri ile hangi seçenekte doğru eşleştirilmiştir?

A)

1	Pamukkale	Denizli
2	Göbeklitepe	Şanlıurfa
3	Kâbe	Mekke
4	Deniz kenarı	Antalya

B)

1	Göbeklitepe	Şanlıurfa
2	Pamukkale	Denizli
3	Deniz kenarı	Antalya
4	Kâbe	Mekke

C)

1	Kâbe	Mekke
2	Deniz kenarı	Antalya
3	Göbeklitepe	Şanlıurfa
4	Pamukkale	Denizli

D)

1	Deniz kenarı	Antalya
2	Kâbe	Mekke
3	Pamukkale	Denizli
4	Göbeklitepe	Şanlıurfa

5.



Bu yaz tatilinde ailemle birlikte dünyanın farklı ülkelerine giderek dış turizm yapma imkânımız oldu.

Buna göre aşağıdakilerden hangisi Ayşegül'ün yaz tatilinde gezdiği yerlerden biri olamaz?



6. Turizm insanların farklı amaçlarla yaşadıkları yerlerin dışına yaptıkları gezidir.

TURİZMİN AMAÇLARI

- ✓ Değişik kültürleri tanımak
- ✓ Dinlenmek, eğlenmek
- ✓ Doğal güzellikler görmek
- ✓ ?

Verilen listede “?” ile gösterilen yere aşağıdakilerden hangisi getirilemez?

- A) Tarihî eserler görmek
- B) İnanç (ibadet, din)
- C) İş aramak, çalışmak
- D) Sağlık, spor

YANITLAR

1	A	B	C	D
2	A	B	C	D
3	A	B	C	D
4	A	B	C	D
5	A	B	C	D
6	A	B	C	D
7	A	B	C	D
8	A	B	C	D
9	A	B	C	D
10	A	B	C	D